




1. Porovnávání délk. Odhadněte, která z postav je nejvyšší.



Anděl (A)




Mikuláš (M)




Čert (C)

a) Ověřte pomocí proužku papírku.



b) Pro přesné porovnání přeneste úsečky pomocí kružítka na polopřímku.



c) Proveďte zápis:

OA OM

OM OC

OA OC